

**ВСЕРОССИЙСКАЯ ОЛИМПИАДА ШКОЛЬНИКОВ ПО ТЕХНОЛОГИИ
ШКОЛЬНЫЙ ЭТАП. 2020-2021 уч. год**

**Номинация «Культура дома и декоративно-прикладное творчество»
6 класс**

- На выполнение заданий теоретического тура олимпиады по технологии отводится **60 минут**.
- Работа включает 21 задание.
- За каждое верно выполненное задание начисляется от 1–3 балла.
- За творческое задание можно получить до 20 баллов
- Максимально возможное **количество баллов – 45**.
- Постарайтесь выполнить как можно больше заданий и набрать как можно больше баллов.

1. Отгадайте загадку (1 балл).

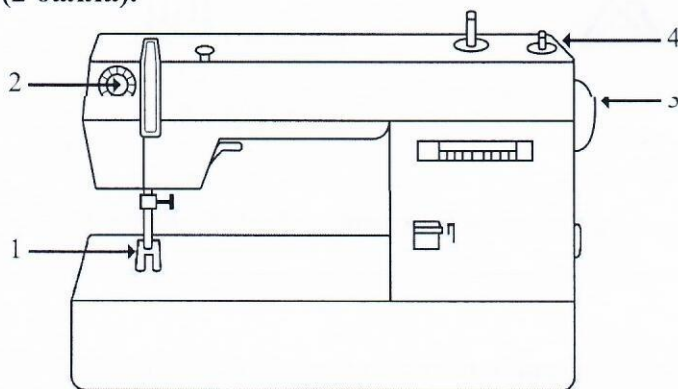
Как называется продукт, который едят как хлеб и используют как салфетку?

2. Установите соответствие между продуктом и его видом (2 балл).

1	ряженка	А	пряность
2	перепёлка	Б	орех
3	кешью	В	птица
4	ваниль	Г	рыба
5	сайда	Д	напиток

1	2	3	4	5
Д	В	Б	А	Г

3. Для пошива швейных изделий используется швейная машина. Перечислите части бытовой швейной машины, отмеченные цифрами (2 балла).



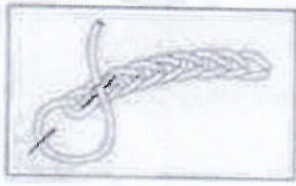
1. Иголка
2. _____
3. _____
4. _____

4. Закончите предложение (1 балл).


В экстренных случаях необходимо набрать номер телефона службы спасения

101

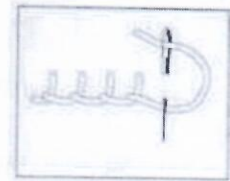
5. Подпишите название швов, применяемых для вышивки (3 балла).



1



2



3

1. _____
2. _____
3. _____

6. К плечевым изделиям относятся (1 балл).

- А. Рубашка
- Б. Юбка
- В. Пиджак

1

7. В половинном размере записываются мерки (1 балл).

- А. ДИ
- Б. СГ
- В. СБ:

—

8. Ширину изделия определяет мерки (1 балл).

- А. Полу обхват талии
- Б. Полу обхват груди
- В. Ширина рукава




—

9. Мерки снимают..... стороны фигуры (1 балл).

- А. правой
- Б. левой

—

10. Срок эксплуатации одежды зависит от правильного ухода. Объясните значение символов, показанных ниже (3 балла).

		
ручная стирка		

11. Долевая нить при растяжении: (1 балл).

- А. изменяет свою длину
- Б. не изменяет свою длину.

12. Процесс получения ткани из ниток путём их переплетения называется: (1 балл).

- А. прядением
- Б. ткачеством
- В. отделкой

13. Ткань, окрашенная в один цвет, называется: (1 балл).

- А. окрашенная
- Б. однотонная
- В. гладкокрашенная
- Г. отбеленная
- Д. цветная

14. Моделирование - это (1 балл).

- А. Раскрой ткани
- Б. Нанесение фасонных линий на выкройку-основу
- В. Разутюживание

15. Комнатные растения в интерьере размещают: (1 балл).

- А. в подвесных кашпо;
- Б. в рожках люстр;
- В. на подоконниках;
- Г. в ванной комнате;
- Д. в напольных вазах.

16. В машинной игле ушко находится: (1 балл).

- А. в середине иглы
- Б. рядом с острием
- В. там же, где у иглы для ручного шитья.

17. Хранить иглы и булавки можно: (1 балл).

- А. в игольнице
- Б. на столе
- В. в фартуке
- Г. в коробочке

18. Чем больше номер машинной иглы, тем сама игла - (1 балл).

- А. толще
- Б. тоньше.

19. Для чего предназначены бытовые швейные машины - (1 балл).

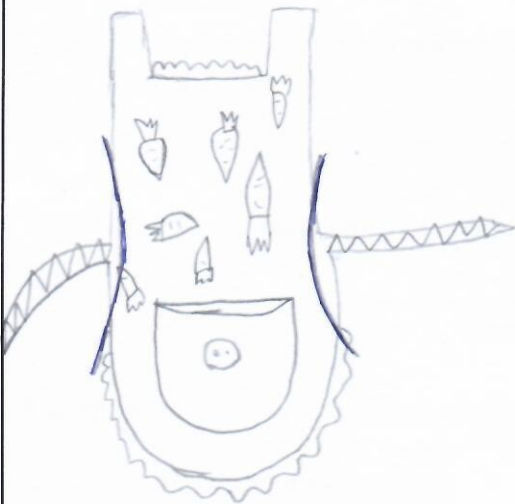
- А. для работы дома
- Б. для работы на производстве

20. Швейные машины бывают: (1 балл).

- А. ручные
- Б. машинные
- В. ножные
- Г. электрические
- Д. переносные.

21. Творческое задание (20 баллов).

1. Нарисуйте модель фартука различного назначения.
2. Выполните описание модели (укажите конструкцию, перечислите фасонные линии и детали).
3. Напишите не менее 2 наименований видов ткани к данной модели.
4. Предложите способы декорирования изделия.

Модель	Описание модели
 <p style="text-align: center;">5</p>	<p>сделана, две ленты и сам фартук. Фасонные линии:</p>
	<p>полы, боковые талии. Детали:</p>
	<p>большой карман с пуговицей в центре. Вид ткани: хлопковая</p>
	<p>плотная. Способы декорирования:</p>
	<p>1 кружева на кармане и по краям, принт</p>
	<p>лифовый, пуговица на кармане,</p>
	<p>узоры на лентах.</p>
	<p></p>
	<p></p>
	<p></p>
	<p></p>
	<p></p>
	<p></p>
	<p></p>
	<p></p>
<p></p>	
<p></p>	
<p></p>	
<p></p>	
<p></p>	

5
5
5

20